

世界史  
(問題)  
2026年度

〈2026 R08203423〉

注意事項

1. 試験開始の指示があるまで、問題冊子および解答用紙には手を触れないこと。
2. 問題は2～10ページに記載されている。試験中に問題冊子の印刷不鮮明、ページの落丁・乱丁および解答用紙の汚損等に気付いた場合は、手を挙げて監督員に知らせること。
3. 解答はすべて、HBの黒鉛筆またはHBのシャープペンシルで記入すること。
4. マーク解答用紙記入上の注意
  - (1) 印刷されている受験番号が、自分の受験番号と一致していることを確認したうえで、氏名欄に氏名を記入すること。
  - (2) マーク欄にははっきりとマークすること。また、訂正する場合は、消しゴムで丁寧に、消し残しがないようによく消すこと。

マークする時	<input checked="" type="radio"/> 良い	<input type="radio"/> 悪い	<input type="radio"/> 悪い
マークを消す時	<input type="radio"/> 良い	<input type="radio"/> 悪い	<input type="radio"/> 悪い

5. 記述解答用紙記入上の注意
  - (1) 記述解答用紙の所定欄（2カ所）に、氏名および受験番号を正確に丁寧に記入すること。
  - (2) 所定欄以外に受験番号・氏名を記入した解答用紙は採点の対象外となる場合がある。
  - (3) 受験番号の記入にあたっては、次の数字見本にしたがい、読みやすいように、正確に丁寧に記入すること。

数字見本	0	1	2	3	4	5	6	7	8	9
------	---	---	---	---	---	---	---	---	---	---

6. 解答はすべて所定の解答欄に記入すること。所定欄以外に何かを記入した解答用紙は採点の対象外となる場合がある。
7. 問題冊子の余白等は適宜利用してよいが、どのページも切り離さないこと。
8. 試験終了の指示が出たら、すぐに解答をやめ、筆記用具を置き解答用紙を裏返しにすること。
9. いかなる場合でも、解答用紙は必ず提出すること。
10. 試験終了後、問題冊子は持ち帰ること。

〔I〕 人類は長い年月をかけて狩猟採集活動を主体とする獲得経済段階から牧畜・農耕を基盤とする生産経済段階に移行することによって、定住化、人口増加、社会の複雑化を果たした。その中からは、以下の地図に示すように各地で古代文明が誕生した。この地図を参照しながら、設問1～4に答えなさい。



設問1 前13世紀、 はムワタリと  において戦い、現在記録として確認できる最古の講和条約を結んだ。空欄Aに入る適切な人名を記述解答用紙の所定欄に記しなさい。また、空欄Bの所在を地図中の①～⑧の中から一つ選び、記述解答用紙の所定欄に記しなさい。

設問2 地図中の①で使用された文字の解読に成功した人物として適切なものを次のア～エから一つ選び、マーク解答用紙の所定欄にマークしなさい。

ア エヴァンズ      イ シャンポリオン      ウ ヴェントリス      エ ローリンソン

設問3 現在、栽培されている穀物の中で生産量が最も多いものを最初に栽培化したのは地図中の①～⑧のどこか。適切なものを一つ選び、マーク解答用紙の所定欄にマークしなさい。

設問4 地図中⑤の地域に展開した文化の説明として適切なものを次のア～エから一つ選び、マーク解答用紙の所定欄にマークしなさい。

ア 仰韶文化はデンマーク人考古学者トムセンによって発掘された河南省仰韶村の遺跡から名付けられ、彩陶を特色としている。

イ 竜山文化は前3千年紀に長江下流域を中心に成立し、ろくろを使用し、1000℃以上で焼成された黒色研磨土器である黒陶を特色としている。

ウ 紅山文化は遼河下流域に成立したが、農耕の他、家畜の飼育もおこなわれていた。玉器の生産が発達しており、竜を象ったものも製作された。

エ 三星堆文化は、鉱物資源に恵まれた雲南省の山間部で発達し、独特の青銅製縦目仮面などで知られ、各地と盛んに交易をおこなっていた。

〔Ⅱ〕 世界史上のメディアや情報について述べた次の文章 i～iii を読み、設問 1～15 に答えなさい。

i ローマ帝国は、4世紀末に東西に分裂し、西ローマ帝国は5世紀にはゲルマン人の侵入を受けて滅んだが、ここに至るまでの長期にわたって地中海周辺の広大な領域を支配していた。この巨大帝国において、メディアの役割を果たしたもののひとつに貨幣がある。

ローマ帝国が発行した貨幣には、金貨、銀貨、青銅貨などの種類があり、いずれも円形で、直径は2cm前後のものが多い。表面の中央には皇帝の肖像が、その周囲にはインペラトル、カエサル、アウグストゥスといった称号と共に皇帝の名があらわされた。裏面にもやはり図像と、図像に関する文言が見られる。それは実に多様で、例えば、ユダヤ人の反乱を鎮圧したウェスパシアヌス帝は、「ユダエア・カプタ（ユダヤ占領）」の文言と共に、これを象徴する図像を描いた貨幣を発行した。また、五賢帝の一人ハドリアヌス帝はその貨幣に、先帝の名に加えて、この先帝から自身に支配権の象徴である球体を手渡されている場面を描かせた。3世紀のアウレリアヌス帝の貨幣には、自らが信奉する太陽神の名とその姿があらわされている。

歴代のローマ皇帝は、こういった貨幣を帝国内に流通させることで、帝国の人々に自身の姿や名、正統性や信仰、あるいは帝国の状況などを知らせていたのである。

ii ヨーロッパ史では15世紀を境目に中世が終わり、近世という新たな時代が始まるとされることが多い。その主な理由としては、オスマン朝によるビザンツ帝国の征服、イベリア半島におけるレコンキスタの完遂、いわゆる「大航海時代」の幕開け、**G**が実用化した活版印刷技術の普及が挙げられる。活版印刷は以後、ヨーロッパ各地の社会に変革をもたらした。例えばルターによる宗教改革は、印刷物を介したからこそ拡大した運動であったと言える。18世紀には、因習を批判する啓蒙思想家たちが、印刷物を用いて社会改革のための世論形成を目指した。もっとも、近世ヨーロッパにおいて識字能力は上流階級や都市住民に限られており、大多数の農民は文字が読めないままであったことを忘れてはならない。識字率の劇的な向上が見られるのは、初等教育制度が普及する19世紀以後のことである。

iii 1986年4月、ソビエト連邦を構成するウクライナ共和国のチョルノービリ（チェルノブイリ）で、大規模な原子力発電所事故が発生した。政府は当初、事故の事実を隠蔽していた。公表は事故から2日以上も経ってからで、その間、情報をもたない周辺住民は放射性物質で汚染された食物を摂取し、内部被曝を重ねていた。ソ連の秘密主義が被害の拡大を招いたことは明らかであった。当時のゴルバチョフ政権は情報公開の必要性を痛感し、ペレストロイカの主な柱として「グラスノスチ（情報公開）」を本格化した。だが、それから5年後の1991年12月、独立国家共同体が結成され、ソビエト連邦は解体した。

設問 1 下線部 A の出来事について述べた次の文ア～エを古いものから時代順に並べ替え、二番目にくるものをマーク解答用紙の所定欄にマークしなさい。

- ア フランク王国のクローヴィスがアタナシウス派に改宗した。
- イ イタリアに東ゴート王国が建国された。
- ウ 北アフリカにヴァンダル王国が建国された。
- エ 西ゴート人は、カタラウヌムの戦いでフン人と戦った。

設問 2 下線部 B に関連して、古代における貨幣について述べた文として誤っているものを次のア～エの中から一つ選び、マーク解答用紙の所定欄にマークしなさい。

- ア 小アジアのメディア王国では、世界最初の貴金属貨幣が造られた。
- イ アケメネス朝のダレイオス1世は、金貨と銀貨を発行した。
- ウ 扶南の港町であったオケオの遺跡でローマ帝国の金貨が発見された。
- エ コンスタンティヌス帝は、ソリドゥス金貨を造らせた。

設問3 下線部Cの称号の由来となった共和政末期の政治家ユリウス＝カエサルについて述べた文として正しいものを次のア～エの中から一つ選び、マーク解答用紙の所定欄にマークしなさい。

- ア 前60年にポンペイウス、アントニウスと共に第一回三頭政治を行った。
- イ 現ドイツ東部にあたるガリアに遠征し、『ガリア戦記』を著した。
- ウ エジプトで用いられていた太陰暦に基づいたユリウス暦を導入した。
- エ 前44年に共和派のブルトゥスらによってローマ市で暗殺された。

設問4 下線部Dの皇帝が征服し、属州化した、現ルーマニアに相当する地域の名称を記述解答用紙の所定欄に記しなさい。

設問5 下線部Eに関連して、歴史上の太陽神について述べた文として正しいものを次のア～エの中から一つ選び、マーク解答用紙の所定欄にマークしなさい。

- ア 古代エジプトでは、太陽神はオシリスと呼ばれ、ハヤブサの姿で表わされた。
- イ デルフォイには、オリンポス12神の一柱である太陽神アポロンの神殿があった。
- ウ ゾロアスター教の最高神であった女神ミトラは、太陽神とみなされていた。
- エ 15世紀半ばにテオティワカンを都としていたインカ帝国の皇帝は、太陽の子とされていた。

設問6 下線部Fに関連して、「太平洋」の名付け親とされる航海者が死亡した場所として正しいものを次のア～エの中から一つ選び、マーク解答用紙の所定欄にマークしなさい。

- ア フィリピン      イ スリランカ      ウ カナダ      エ ハワイ

設問7 空欄Gに当てはまる人名を記述解答用紙の所定欄に記しなさい。

設問8 下線部Hに関連して、ヨーロッパの政治指導者と宗教の関係について述べた文として正しいものを次のア～エの中から一つ選び、マーク解答用紙の所定欄にマークしなさい。

- ア イングランド女王メアリ1世は、先代エリザベス1世の政策を転換し、カトリック回帰路線を取り、プロテスタントを弾圧した。
- イ ヴィッテンベルク大学を設立したザクセン選帝侯フリードリヒは、ヴォルムス帝国議会で追放処分を受けたルターを領地で保護した。
- ウ フランスの宰相リシュリューは、国内ではユグノーと呼ばれる新教徒を弾圧し、外交では三十年戦争においてカトリック陣営に加勢した。
- エ 神聖ローマ皇帝ヨーゼフ2世は、ハプスブルク家領に宗教寛容令を発し、イスラーム教徒やギリシア正教徒に信教の自由を認めた。

設問9 下線部Iの時代の知識人について述べた文として誤っているものを次のア～エの中から一つ選び、マーク解答用紙の所定欄にマークしなさい。

- ア 『哲学書簡』の著者ヴォルテールは、プロイセンのフリードリヒ2世と親交を結び、招待を受けてサンソーシ宮殿に滞在した。
- イ 『経済表』の著者ケネーは、農業こそが富の源泉だと考え、自由貿易を批判した。
- ウ ルソーは1762年に『社会契約論』と『エミール』を出版した。
- エ モンテスキューは小説『ペルシア人の手紙』を著した。

設問10 下線部Jに関連して、ドイツ農民戦争の指導者として正しいものを次のア～エの中から一つ選び、マーク解答用紙の所定欄にマークしなさい。

- ア ツヴィングリ                      イ コシユーシコ (コシチューシコ)  
ウ ヴァレンシュタイン              エ ミュンツァー

設問11 下線部Kに起こった出来事として正しいものを次のア～エの中から一つ選び、マーク解答用紙の所定欄にマークしなさい。

- ア プラザ合意                          イ 男女雇用機会均等法の制定 (日本)  
ウ 天安門事件                          エ 米ソ首脳会談 (レイキャビク)

設問12 下線部Lに関連して、1922年のソビエト連邦成立時の構成国として正しいものを次のア～エの中から一つ選び、マーク解答用紙の所定欄にマークしなさい。

- ア カザフスタン              イ ウズベキスタン              ウ ザカフカース              エ リトアニア

設問13 下線部Mに関連して、1970年代のアメリカ合衆国でも原発事故が発生した。その発電所の名を記述解答用紙の所定欄に記しなさい。

設問14 下線部Nに関連して、ソビエト連邦の政治指導者の名とその事績との組み合わせとして正しいものを次のア～エの中から一つ選び、マーク解答用紙の所定欄にマークしなさい。

- ア スターリン      -      四月テーゼ  
イ フルシチョフ      -      第二次五カ年計画  
ウ プレジネフ      -      第二次戦略兵器制限交渉 (SALT II)  
エ チェルネンコ      -      チェコスロヴァキアへの軍事介入

設問15 下線部Oの発足時に、これに加盟しなかった国として正しいものを次のア～エの中から一つ選び、マーク解答用紙の所定欄にマークしなさい。

- ア エストニア              イ ロシア              ウ ベラルーシ              エ ウクライナ

〔Ⅲ〕 次の文章を読み、設問 1～9 に答えなさい。

人類は、みずからの記録を残すために文字を活用してきた。中国においては甲骨文字を起源とする漢字が発明された。漢字は、中国をはじめて統一した秦、ついで漢の時代に整備された。中国でつくられた漢字は、中国王朝と外交関係のある王朝や、文化的に交流のある地域に伝わり、東アジアの広範囲に伝播した。そうした地域では、みずからの社会の出来事や伝承を漢字で記す試みが行われた。

唐滅亡後、中国で宋が建国された。しかし、東アジアにおいて中国王朝の絶対的な優位はすでに存在しておらず、各地では宋に対抗する契丹、西夏、女真などの王朝や勢力が存在した。これらの王朝では、漢字を基にしてつくられた契丹文字、西夏文字、女真文字などが用いられた。

一方、朝鮮半島やベトナムではそれより遅れて独自の文字が**E**つくられた。15世紀、朝鮮王朝の世宗によって制定されたのが訓民正音、いわゆるハングルである。『訓民正音』例義には、世宗がハングルの制定した動機について次のように記されている。

国の語音は中国と異なり、**F**文字と相流通せず。故に愚民言わんと欲するところ有れども、終にその情を伸ぶることを得ざる者多し。予、此が為に憫然なりて、新たに二十八字を制す。欲わくは人々をして易しく習わしめ日用に便ならんことを。

このように制定された訓民正音は、当初、漢字使用に誇りをもっていた上流階層には定着せず、主に民衆の間に広まった。

19世紀、朝鮮でも西洋文明の影響を受けて近代化が進むなかで、漢字とハングル混じりの文章や、ハングルだけで構成された新聞が発行され、公的刊行物におけるハングルの使用が拡大した。政治的には日本による植民地支配が進められるなかで、ハングルは朝鮮の民族主義のよりどころの一つとなった。植民地支配下でも朝鮮人の言語学者によるハングルの整備・研究が進められ、**H**こんにち南北朝鮮で用いられるハングルの正書法の基となった。

設問 1 下線部 A に関連して、20世紀にこの文字の解説に貢献した人物の名前として適切なものはどれか。次のア～エの中から一つ選び、マーク解答用紙の所定欄にマークしなさい。

ア 羅振玉      イ 韓非子      ウ 顧炎武      エ 曾国藩

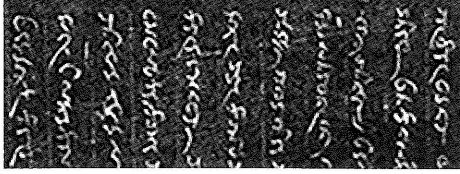
設問 2 下線部 B に関連して、神話時代からこの王朝の武帝の治世までの歴史を紀伝体で記した書籍の名前を記述解答用紙の所定欄に記しなさい。

設問 3 下線部 C に関連して、東アジアの出来事として、次のア～エの記述を時代順に並べ替え、古いものから三番目にくるものをマーク解答用紙の所定欄にマークしなさい。

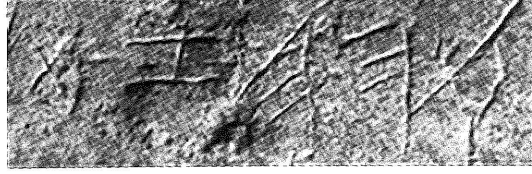
- ア 広開土王の事績を記した碑文が漢字で刻まれた。
- イ 長安において景教の流行を伝える碑文が漢字とシリア文字で書かれた。
- ウ 皇帝に即位した則天武后が独特の「則天文字」を制定した。
- エ 後世に行書の手本とされる「蘭亭序」を王羲之が書いた。

設問4 下線部Dに関連して、女真文字として適切なものを次のア～エの図の中から一つ選び、マーク解答用紙の所定欄にマークしなさい。

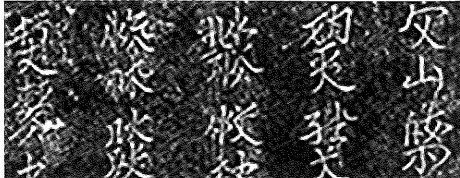
ア



イ



ウ



エ



設問5 下線部Eに関連して、ベトナムの陳朝においても独自の文字が生まれ出された。その文字の名称として適切な語を記述解答用紙の所定欄に記しなさい。

設問6 下線部Fで言及されている「文字」が意味する文字体系の名称を記述解答用紙の所定欄に記しなさい。

設問7 下線部Gに関連して、人々に学習しやすく便利なハングルを普及させようとした当時の朝鮮の社会について述べた説明として、適切な記述を次のア～エの中から一つ選び、マーク解答用紙の所定欄にマークしなさい。

- ア 朱子学の素養をもった兩班と呼ばれる家門が官僚の大部分を占めた。
- イ 西南部の全羅道が穀倉地帯として成長し「湖広熟すれば天下足る」と称された。
- ウ 仏教が国教となり、仏国寺や皇龍寺などの巨大寺院が建立された。
- エ 各地の節度使が自立し、中央政府の影響力が弱まった。

設問8 下線部Hの過程について、次のア～エの記述を時代順に並べ替え、古いものから二番目にくるものをマーク解答用紙の所定欄にマークしなさい。

- ア 寺内正毅総督のもと、憲兵を利用した武断政治が行われた。
- イ 「独立万歳」をとなえる三・一独立運動が展開された。
- ウ 国家総動員体制に対応するため皇民化政策が実施された。
- エ 第2次日韓協約が締結され、韓国統監府が設置された。

設問9 下線部Iに関連して、ハングル使用を政策として推進した大韓民国の朴正熙大統領に関する説明として、適切な記述を次のア～エの中から一つ選び、マーク解答用紙の所定欄にマークしなさい。

- ア 1965年、緊張緩和（デタント）の影響を受けて中国と国交を正常化した。
- イ 北朝鮮との対話をめざす太陽政策を推進した。
- ウ 光州で発生した民主化運動を軍事力で弾圧した。
- エ 開発独裁と呼ばれる体制のもとで「漢江の奇跡」と呼ばれる経済成長を実現した。

〔Ⅳ〕 次の史料を読んで、設問 1～7 に答えなさい。

**A** 政府と、**B** 人民を代表する **C** チーム [……] は、数十年の対決と闘争に終止符を打ち、お互いの正当な政治的権利を認め合うときが来たことに同意する。そして、平和のうちに共存し、お互いを尊重し、安全を保障し、合意された政治的手続きを踏んで、公正な、永続する全面的な平和の取り決め [……] を達成するために努力するときが来たことを認める。

(出典：『世界史史料』より抜粋)

設問 1 空欄 A に当てはまる適切な国の名前を記述解答用紙の所定欄に記しなさい。

設問 2 空欄 B に当てはまる適切な語を記述解答用紙の所定欄に記しなさい。

設問 3 空欄 C に当てはまる適切な組織名を記述解答用紙の所定欄に記しなさい。

設問 4 史料の宣言に至る交渉過程について述べた内容として最も適切なものを次のア～エの中から一つ選び、マーク解答用紙の所定欄にマークしなさい。

- ア アイルランドで交渉が進められ、イギリスで署名が行われた。
- イ ロシアで交渉が進められ、ポーランドで署名が行われた。
- ウ インドシナ半島で交渉が進められ、フランスで署名が行われた。
- エ ノルウェーで交渉が進められ、米国で署名が行われた。

設問 5 次のア～エの出来事のうち、空欄 A の国が国際連合に加盟した年に起きた出来事として最も適切なものを一つ選び、マーク解答用紙の所定欄にマークしなさい。

- ア 米国の支援を受けて、ゴ=ディン=ジェム率いる南ベトナム解放民族戦線が結成された。
- イ 日本がポツダム宣言を受諾したことをうけて、戦後の国際秩序を協議するためにヤルタ会談が開かれた。
- ウ 米国とカナダを含めた西側12カ国が、北大西洋条約機構 (NATO) を結成した。
- エ 中国で習近平が最高指導者となり、16世紀以来ポルトガルが領有していたマカオを中国に返還させることに成功した。

設問 6 次のア～エの出来事のうち、史料の宣言がなされた年に起きた出来事として最も適切なものを一つ選び、マーク解答用紙の所定欄にマークしなさい。

- ア 日中平和友好条約の締結に刺激されて、ニクソンが中国を訪問した。
- イ マーストリヒト条約が発効し、ヨーロッパ連合 (EU) が生まれた。
- ウ スハルトの失脚を契機として、アジア通貨危機がおこった。
- エ イタリアがエチオピアへの侵攻を試みたが、英仏の反発を受けて撤退した。

設問 7 史料の宣言がなされた6年前、空欄 A 側と空欄 B 側の間で衝突があり、一方に対してもう一方の人々が抵抗運動をおこした。この抵抗運動を何と呼ぶか。記述解答用紙の所定欄に記しなさい。

〔V〕 次の文章を読み、設問 1～4 に答えなさい。

図 1 は中国の敦煌莫高窟で発見された木版画で、咸通 9（868）年の年紀がある『金剛般若波羅蜜経』の扉絵である。木版を用いて絵や文章を刷る技術は、東アジアではまず仏教や儒教の聖典が対象となった。それは、信頼できるテキストを広範に普及させる目的に適うとともに、特に仏教経典の場合は多くの功德を積むことになると考えられ、祈願成就を期待して制作された面が大きい。13世紀に朝鮮半島でおこなわれた 8 万枚を超える **A** の版木制作は、モンゴルの侵入を仏の力で阻止しようとした救国の事業であった。

ヨーロッパでも複製技術である版画は、おもに宗教的な理由で発展した。図 2 は、木版画の連作『黙示録』の 1 点で、『四人の使徒』や自画像で知られるドイツの画家 **B** が制作し、広く伝わった。近代になると、商業的な目的で、石版画（リトグラフ）によるポスターがつくられるようになる。石版画は、石の上に直接描画することで、自由な線と多彩な色彩による表現を可能にし、図 3 の作品にみられるような芸術性の高い作例を数多く生み出し、商業芸術のジャンルを拓いた。



図 1



図 2



図 3

設問 1 活躍年代が図 1 の制作年代に最も近い人物として適切なものを次のア～エの中から一つ選び、マーク解答用紙の所定欄にマークしなさい。

ア 孔穎達      イ 杜甫      ウ 白居易      エ 玄奘

設問 2 空欄 A に入る語を記述解答用紙の所定欄に漢字 6 文字で記しなさい。

設問 3 空欄 B に入る作者名を記述解答用紙の所定欄に記しなさい。

設問 4 図 3 に関する説明として、最も適切な文章を次のア～エの中から一つ選び、マーク解答用紙の所定欄にマークしなさい。

ア ドガは踊り子を主題にした作品を多数制作した画家で、この作品では、軽快な動きを表現する線にロココ様式の典型が見出せる。

イ ロートレックが制作したこの作品は、パリのミュージックホールを宣伝するもので、線や構図に浮世絵版画からの影響が認められる。

ウ ゴッホはこの作品で、都市の底辺に生きる人々の姿を辛辣に表現し、マネやクールベの写実主義の確立に少なからぬ影響を与えた。

エ マティスはこの作品に代表されるような、平面の大胆な組み合わせによる装飾的画面をつくりだし、キュビスムへの展開を示唆した。

[以 下 余 白]

# 世界史

## 記述解答用紙

<2026 R 08203423>

受験番号	万	千	百	十	一
氏名					

(注意) 所定欄以外に受験番号・氏名を記入してはならない。記入した解答用紙は採点の対象外となる場合がある。

<2026 R 08203423>

受験番号	万	千	百	十	一
氏名					

(注意) 所定欄以外に受験番号・氏名を記入してはならない。記入した解答用紙は採点の対象外となる場合がある。

[I]

1 (A)		1 (B)	
-------	--	-------	--

[II]

4		7	
13			

[III]

2		5	
6			

[IV]

1		2	
3		7	

[V]

2		3	
---	--	---	--

### 採点欄

(この欄に書き入れてはならない)

[I]

--

[II]

--

[III]

--

[IV]

--

[V]

--